



Name: _____

Größer oder kleiner?

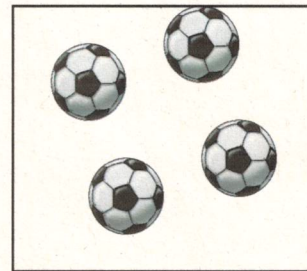

Welche Seite ist **größer als** die andere Seite?

Kreuze an.



Welche Seite ist **kleiner als** die andere Seite?

Kreuze an.



Setze das passende Rechenzeichen ein.



$4 > 1$

$10 + 6 > 12$
16

$10 + 6 > 10 + 3$
16 13

$2 < 8$

$10 + 3 < 18$
13

$10 + 2 < 10 + 9$
12 19

$7 < 13$

$17 > 10 + 5$
15

$10 + 8 = 10 + 8$
18 18

$15 > 11$

$11 = 10 + 1$
11

$10 + 3 < 10 + 7$
13 17



kleiner als



größer als

