





Name: _____

Größer oder kleiner?



Welche Seite ist **größer als** die andere Seite?

Kreuze an.



Welche Seite ist **kleiner als** die andere Seite?

Kreuze an.



Setze das passende Rechenzeichen ein.



$4 \square 1$

$2 \square 8$

$7 \square 13$

$15 \square 11$

$10 + 6 \square 12$

$10 + 3 \square 18$

$17 \square 10 + 5$


$11 \square 10 + 1$

$10 + 6 \square 10 + 3$

$10 + 2 \square 10 + 9$

$10 + 8 \square 10 + 8$

$10 + 3 \square 10 + 7$



kleiner als

<

größer als

>

